




— Identifica las curvas de nivel con el perfil de montaña correspondiente, (Fig. 22).



1




A



2



B



3



C



4



D



5

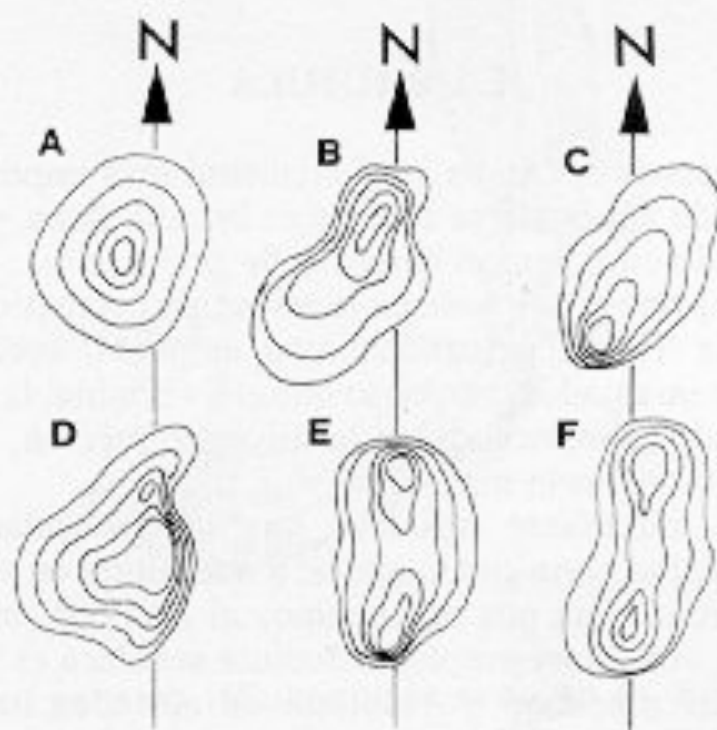


E

1	2	3	4	5

(Fig. 22)

— Identifica las curvas de nivel por la descripción de palabra que de ellas se hace, (Fig. 24).



1. Las caras Norte y Sur de esta colina tienen una gran pendiente
2. Esta colina tiene su vertiente más abrupta al Suroeste.
3. Sólo la cara Sureste de esta colina no es de considerable pendiente.
4. Esta colina tiene dos cimas, la del Sur es la más alta.
5. Cualquiera que sea el lado por donde se suba esta colina, se encuentra la misma pendiente.
6. Es mejor evitar ascender esta colina por su cara Este.